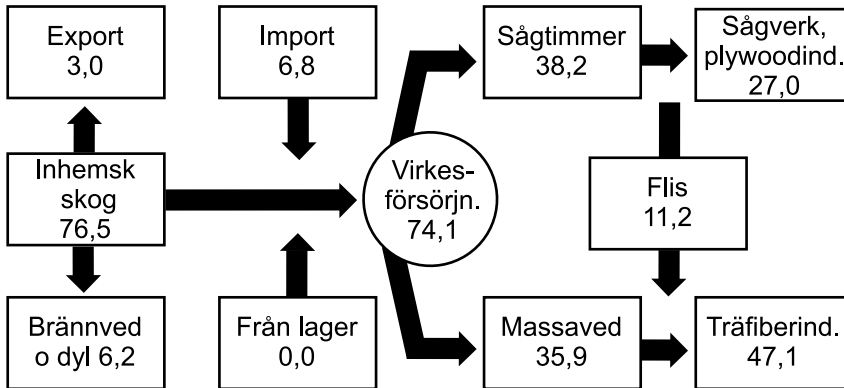


Råvaror inom trä- och pappersindustrin i Sverige

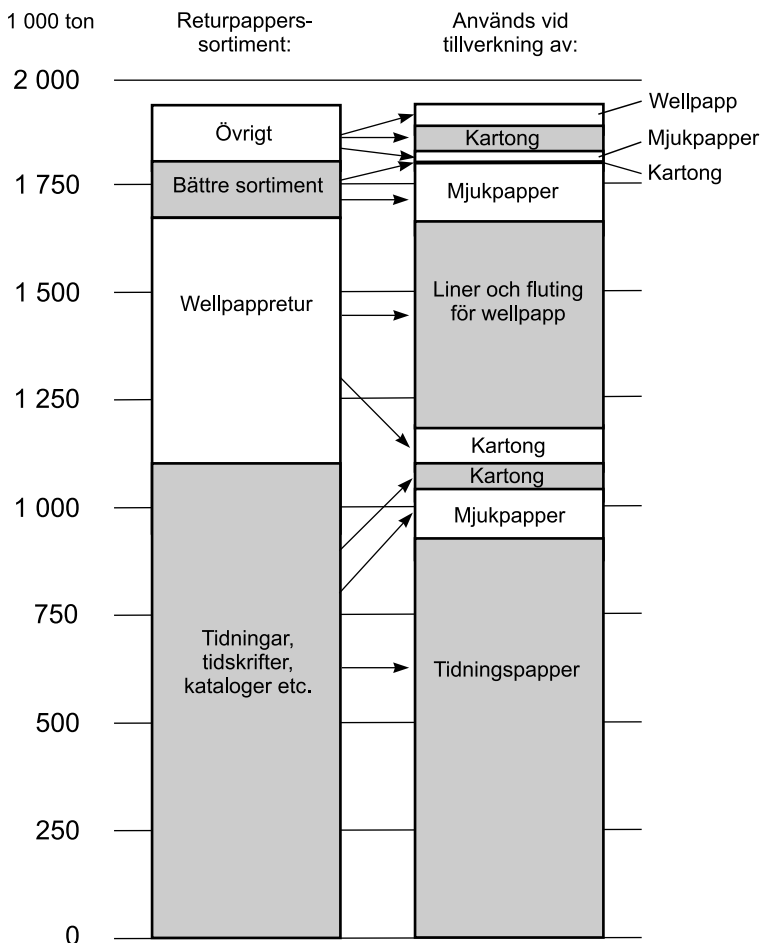
Virkesförsörjning

Miljoner m³fub



Skogsindustrins virkesförsörjning 2006 angiven i miljoner fasta kubikmeter under bark (m³fub).

Returpapper som råvara



Returpapper 2007 fördelat på sortiment samt på vad de olika sortimenten användes till, angivet i tusental ton.

Uppgifter

29. Hur mycket wellpappretur användes vid tillverkning av liner och fluting för wellpapp?

- A 300 000 ton
- B 500 000 ton
- C 600 000 ton
- D 1 200 000 ton

30. Hur stor andel av sågtimret blev flis?

- A 10 procent
- B 20 procent
- C 30 procent
- D 40 procent

31. Till vilken typ av tillverkning användes sammanlagt 250 000 ton av returpapperssortimentet?

- A Mjukpapper
- B Wellpapp
- C Liner och fluting för wellpapp
- D Tidningspapper

Körkortsinnehavare

Antalet körkortsinnehavare i Sverige 2006 fördelat efter ålder, körkortsbehörighet¹ och kön.

Körkortsbehörighet	Antal personer i åldern								Samtliga
	≤17	18	19	20–24	25–47	48–66	67–79	80–	
A	–	64	38	77	1 122	490	421	551	2 763
B	1	31 450	53 275	321 265	1 807 803	388 610	38 277	6 946	2 647 627
A B	–	375	690	8 707	243 441	1 228 758	594 352	243 080	2 319 403
BE	–	23	96	1 047	13 372	4 806	671	129	20 144
A BE	–	5	11	247	8 904	40 762	42 779	18 658	111 366
BE C	–	2	4	128	3 514	1 144	30	3	4 825
A BE C	–	–	1	38	4 644	12 424	1 561	34	18 702
B C	–	593	568	6 342	64 933	18 627	479	7	91 549
A B C	–	8	27	741	45 623	125 668	18 773	557	191 397
BE CE	–	52	833	7 302	36 520	4 933	139	2	49 781
A BE CE	–	3	30	1 071	24 599	77 134	18 621	828	122 286
BE C DE	–	–	–	1	18 186	5 061	126	1	23 375
A BE C DE	–	–	–	–	13 045	24 954	2 643	28	40 670
BE CE DE	–	–	–	163	18 185	5 230	141	2	23 721
A BE CE DE	–	–	–	66	21 489	55 677	13 801	554	91 587
A1	1 311	208	20	45	8	1	1	–	1 594
A1 B	–	436	390	1 118	768	65	6	1	2 784
A1 BE	–	–	6	10	71	218	111	11	427
A1 B C	–	16	4	82	47	6	–	–	155
A B C D	–	–	–	17	723	886	31	–	1 657
A1 B C D	–	–	–	–	3	2	–	–	5
A B D	–	–	–	43	1 091	1 288	30	–	2 452
A1 B D	–	–	–	1	5	–	–	–	6
A1 BE C	–	–	–	4	21	102	15	1	143
A1 BE CE	–	2	20	87	115	289	67	7	587
A BE D	–	–	–	–	65	81	3	–	149
A1 BE D	–	–	–	–	2	3	–	–	5
A BE DE	–	–	–	–	15	15	3	–	33
A1 BE DE	–	–	–	1	10	4	1	–	16
A BE C D	–	–	–	–	123	133	5	–	261
A1 BE C D	–	–	–	–	–	6	–	–	6
A1 BE C DE	–	–	–	–	7	14	3	–	24
A1 BE CE DE	–	–	–	3	38	121	30	–	192
A BE CE D	–	–	–	–	–	1	–	–	1
B D	–	–	–	526	7 634	1 540	4	–	9 704
B C D	–	–	–	75	1 650	419	13	2	2 159
BE D	–	–	–	7	122	17	1	–	147
BE C D	–	–	–	1	140	22	1	–	164
BE DE	–	–	–	1	38	3	2	–	44
Summa	1 312	33 237	56 013	349 216	2 338 076	1 999 514	733 141	271 402	5 781 911
Män	1 214	19 558	30 863	189 118	1 237 783	1 059 909	395 317	149 625	3 083 387
Kvinnor	98	13 679	25 150	160 098	1 100 293	939 604	337 824	121 777	2 698 523
Traktorkort	5 709	1 446	539	1 115	1 795	726	606	914	12 850

1) A1 = körkort för lätt motorcykel.

A = körkort för tung motorcykel.

B = körkort för personbil, lätt lastbil och ett till sådan bil kopplat lätt släpfordon.

C = körkort för tung lastbil.

D = körkort för buss.

E = körkort för fordon med ett eller flera släpfordon, oavsett vikt.

Uppgifter

32. Hur många av dem som hade traktorkort var 25 år eller äldre?

- A 1 795
- B 3 127
- C 4 041
- D 8 809

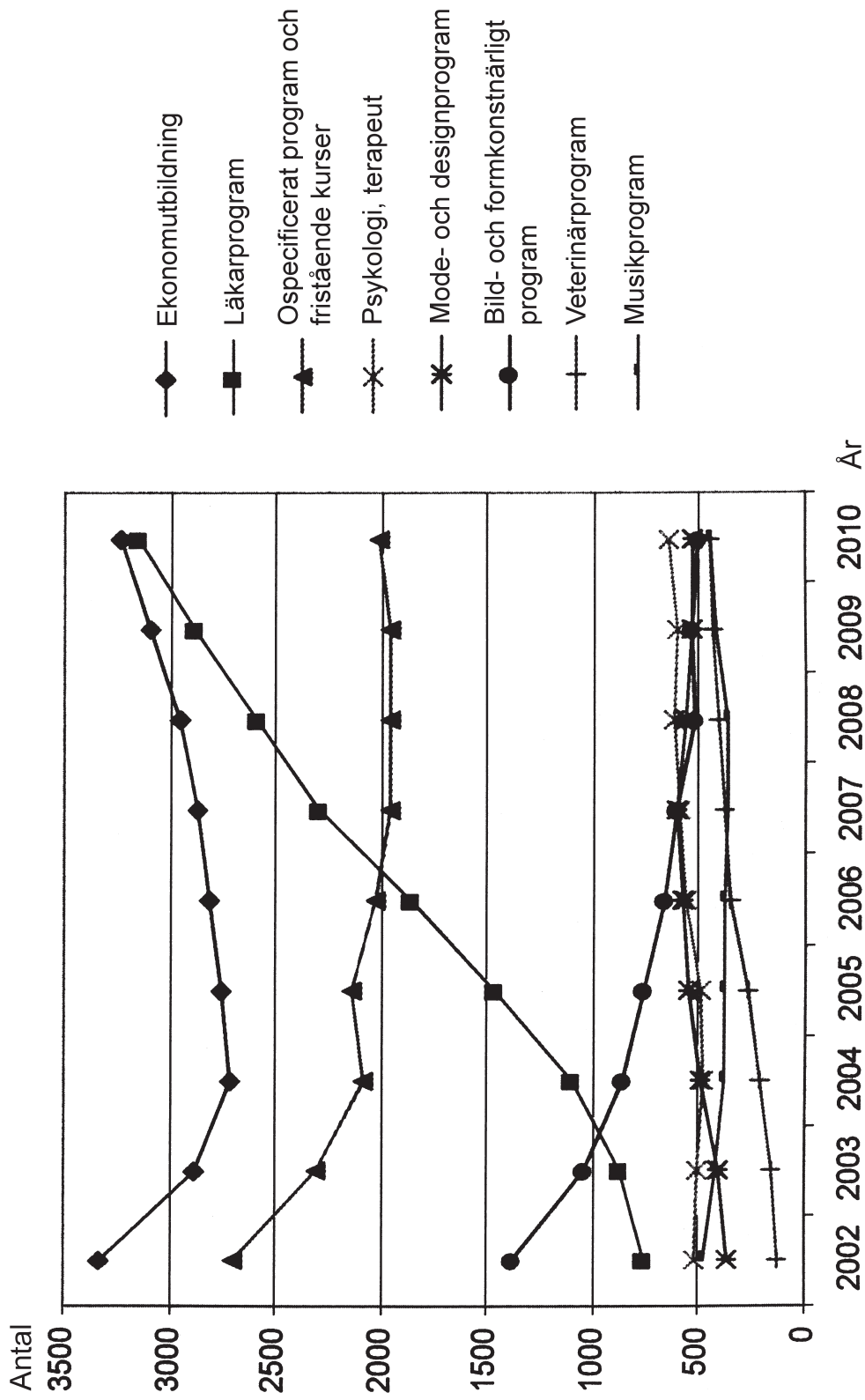
33. I hur många av åldersgrupperna var körkortsbehörigheten B den vanligaste?

- A 2
- B 3
- C 4
- D 5

34. Hur stor andel av samtliga körkortsinnehavare hade körkortsbehörigheten A B?

- A 35 procent
- B 40 procent
- C 45 procent
- D 50 procent

Utlandsstuderande



Det totala antalet svenska freemover-studenter¹ med studiemedel uppdelat efter typ av utbildning perioden 2002–2010.

¹ Student som utan att delta i utbytesprogram ordnar sin högskoleutbildning i annat land.

Uppgifter

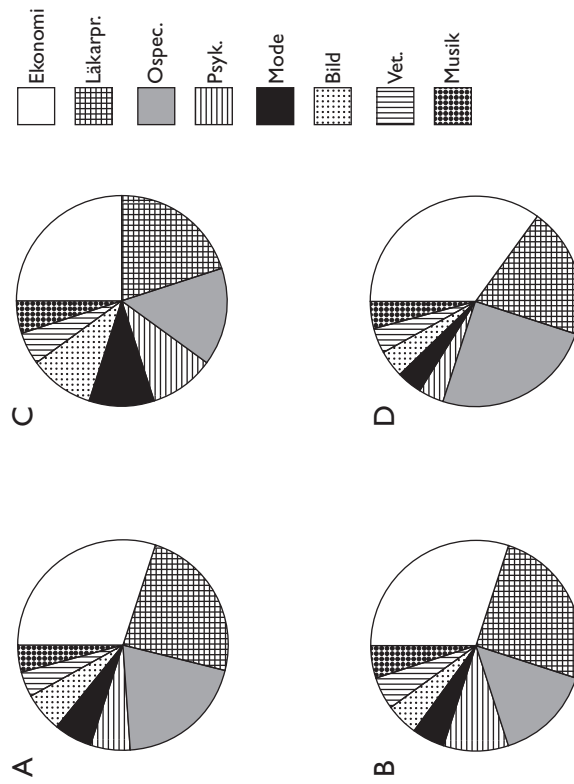
35. Hur många fler var de freemover-studenter som gick ekonomutbildning än de som gick bild- och formkonstnärligt program det år då skillnaden i antal var som störst?

- A 2 200
- B 2 500
- C 2 700
- D 3 000

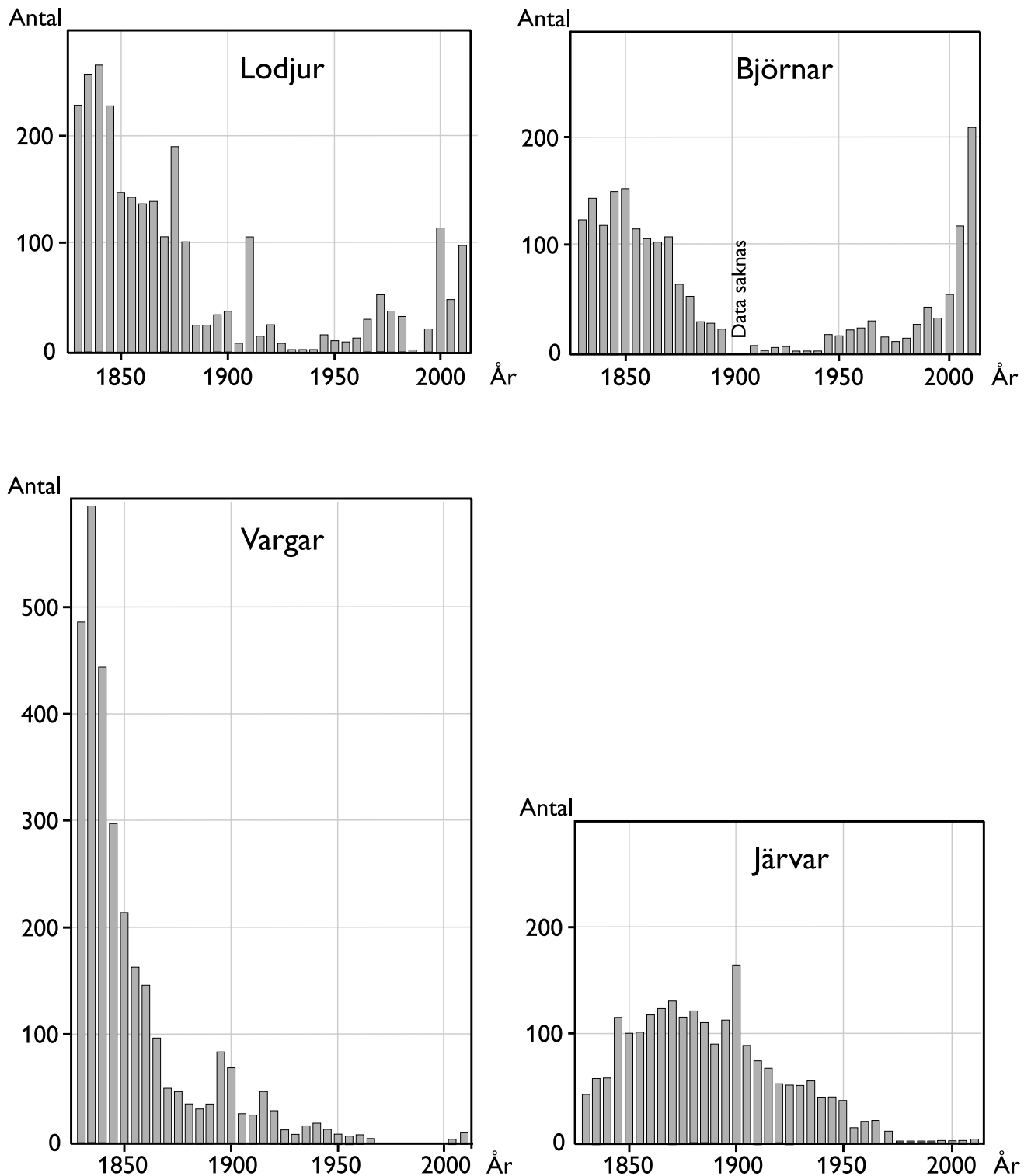
36. Vilket år var det totala antalet freemover-studenter som störst?

- A 2002
- B 2003
- C 2009
- D 2010

37. Vilket diagram visar freemover-studenternas procentuella fördelning på utbildningstyper 2007?



Rovdjursjakt i Sverige 1830–2010



Antalet dödade lodjur, björnar, vargar och järvar vid jakt vart femte år från 1830 till 2010.

Uppgifter

38. Hur många rovdjur dödades sammanlagt under det år då flest dödades?

- A 600
- B 900
- C 1 100
- D 1 300

39. För vilket år gällde att det dödades fler vargar än lodjur och fler järvar än björnar?

- A 1855
- B 1870
- C 1880
- D 1895

40. Hur många vargar dödades i genomsnitt per redovisat år under perioden 1830–1850?

- A 300
- B 350
- C 400
- D 450